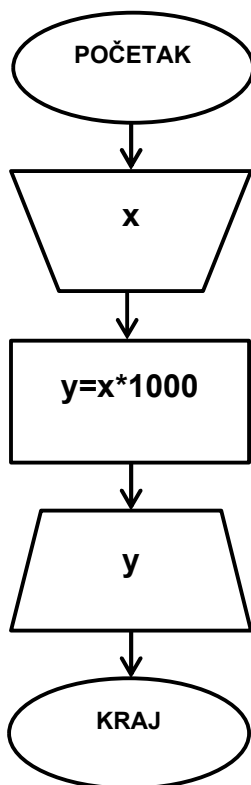


Линијски алгоритми

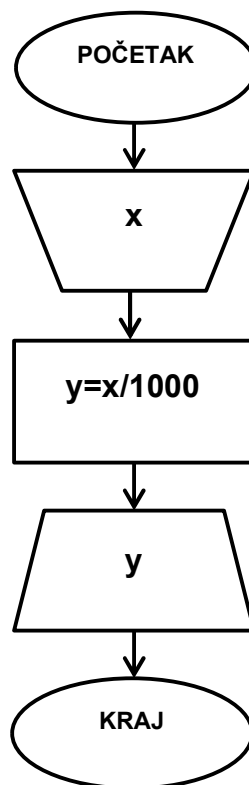
1. Нацртати алгоритам којим се унета дужина у метрима претвара у милиметре.
2. Нацртати алгоритам којим се унета маса у грамима претвара у килограме.
3. Нацртати алгоритам којим се рачуна површина и запремина коцке ивице a .
4. Нацртати алгоритам којим се рачуна површина и обим правоуглог троугла катета a и b .
5. Нацртати алгоритам којим се рачуна површина и обим круга полупречника r .
6. Нацртати алгоритам којим се рачуна средња вредност три унета броја.
7. Нацртати алгоритам којим се износ у доларима претвара у евре. Познати су курс долара и курс евра.
8. Нацртати алгоритам којим се рачуна површина и запремина квадра.
9. Нацртати алгоритам којим се рачуна површина и обим једнакостраничног троугла.
10. Нацртати алгоритам којим се издвајају цифра јединица и цифра десетица унетог двоцифреног броја.
11. Нацртати алгоритам којим се рачуна сума цифара троцифреног броја.

Решења:

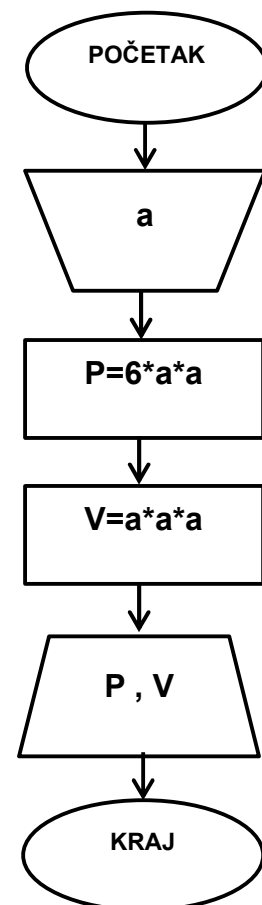
1.



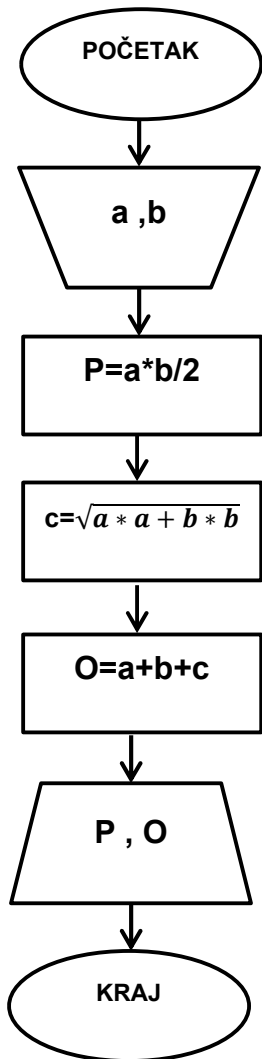
2.



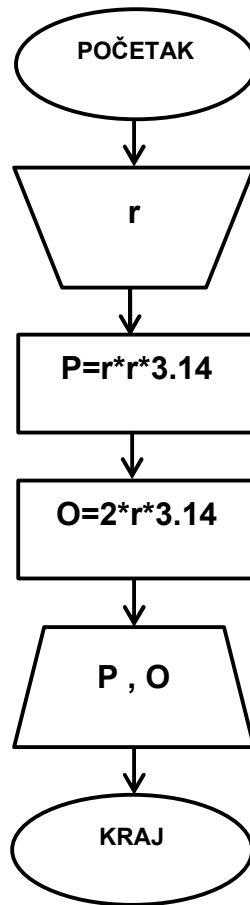
3.



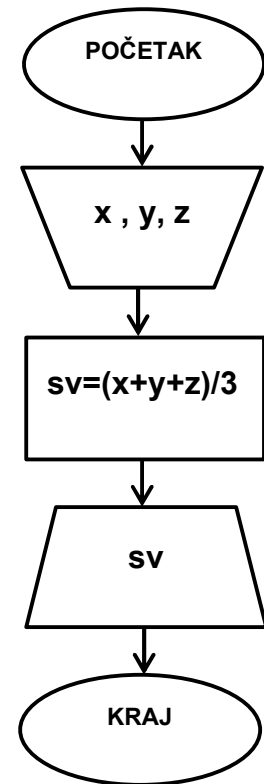
4.



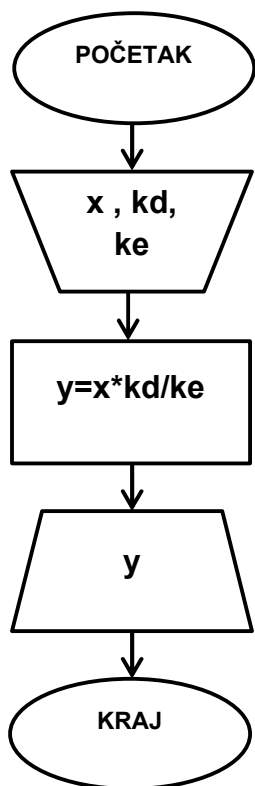
5.



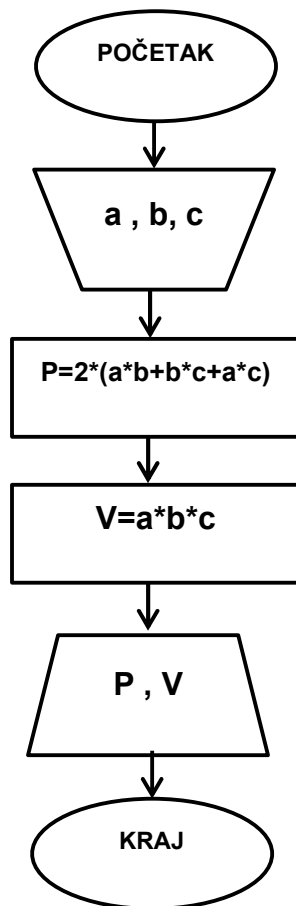
6.



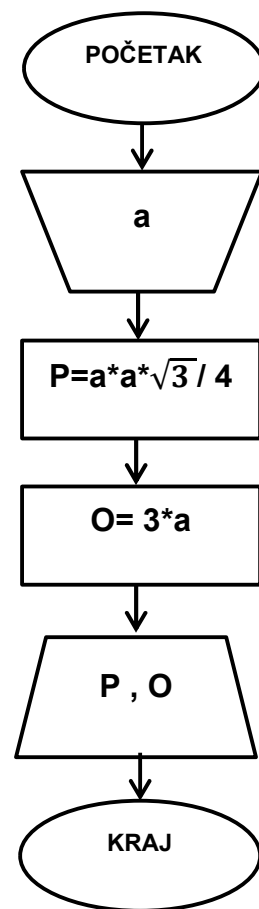
7.



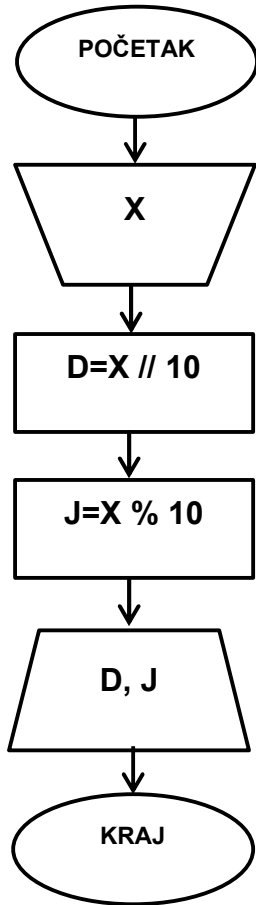
8.



9.



10.



11.

